









Identify 2D and 3D shapes

Using the word bank, write the correct name of each 2D and 3D shape below.

 <input data-bbox="146 790 448 907" type="text"/>	 <input data-bbox="475 790 777 907" type="text"/>	 <input data-bbox="804 790 1106 907" type="text"/>	 <input data-bbox="1129 790 1431 907" type="text"/>
 <input data-bbox="146 1305 448 1422" type="text"/>	 <input data-bbox="475 1305 777 1422" type="text"/>	 <input data-bbox="804 1305 1106 1422" type="text"/>	 <input data-bbox="1129 1305 1431 1422" type="text"/>

sphere

[twinkl.com](https://www.twinkl.com)

cone

[twinkl.com](https://www.twinkl.com)

cuboid

[twinkl.com](https://www.twinkl.com)

square

[twinkl.com](https://www.twinkl.com)

cube

[twinkl.com](https://www.twinkl.com)

triangle

[twinkl.com](https://www.twinkl.com)

rectangle

[twinkl.com](https://www.twinkl.com)

circle

[twinkl.com](https://www.twinkl.com)